

KONKURS GEOGRAFICZNY „OBIEŻYŚWIAT”

dla uczniów gimnazjum

etap międzyszkolny - 29 maja 2012 roku

Młodzi Geografowie!

Przed Wami III część Konkursu Geograficznego!

1. Część III to zadania praktyczno-problemowe.
2. Wszystkie zadania należy wykonać na karcie z wykorzystaniem załączników oraz przedmiotów ustawionych na 4 stolikach.
3. Za poprawne rozwiązanie 19 zadań z części III możecie uzyskać maksymalnie 44 punkty.
4. Nie używajcie korektora oraz czerwonego koloru długopisu. Jeżeli chcecie dokonać korekty swojej odpowiedzi, błędnie wybraną podkreślcie, wpisując obok prawidłową.
5. Podczas pracy nie korzystajcie z kalkulatora.
6. Na rozwiązanie wszystkich zadań z części III macie 45 minut.

Życzymy powodzenia !

KOD SZKOŁY

Wypełnia Komisja Konkursowa

Imię i nazwisko ucznia

Imię i nazwisko ucznia

Szkoła

Imię i nazwisko opiekuna

Ilość uzyskanych punktów:

Część III
24

CZĘŚĆ III – PRAKTYCZNO-PROBLEMOWA

I. Na podstawie prezentacji podkreście poprawną odpowiedź. Rozwiązania zadań zamkniętych (od 1 do 10) wpisujcie do przygotowanej tabeli, znajdującej się kolejnej stronie.

1. Miejsce kultu maryjnego w Bośni i Hercegowinie całkowicie zamieszkałe przez Chorwatów to:
 - a) Fatima
 - b) Loreto
 - c) Lourdes
 - d) Medjugorje

2. Świątynia przedstawiona na zdjęciu jest charakterystyczna dla:
 - a) prawosławia
 - b) protestantyzmu
 - c) judaizmu
 - d) islamu

3. Przedstawiony wykres kołowy prezentuje strukturę wyznaniową:
 - a) Turcji
 - b) Chorwacji
 - c) Słowacji
 - d) Grecji

4. Wysłuchany utwór muzyczny jest hymnem państwowym:
 - a) Chorwacji
 - b) Serbii
 - c) Turcji
 - d) Słowacji

5. „Nazar Bonjuk”, czyli ozdoba mająca odbijać zły urok najczęściej jest przywożona z:
 - a) Turcji
 - b) Grecji
 - c) Chorwacji
 - d) Albanii

6. W wysłuchanym utworze muzycznym jedna z osób pochodzi z Półwyspu Bałkańskiego. Jest to wokalista i kompozytor folkowy:
 - a) Goran Bregović
 - b) Balkan Sevdah
 - c) Dimitri Mitropoulos
 - d) Don Vasyl

CZEŚĆ III – PRAKTYCZNO-PROBLEMOWA

I. Na podstawie prezentacji podkreście poprawną odpowiedź. Rozwiązania zadań zamkniętych (od 1 do 10) wpisujcie do przygotowanej tabeli, znajdującej się kolejnej stronie.

1. Miejsce kultu maryjnego w Bośni i Hercegowinie całkowicie zamieszkałe przez Chorwatów to:
 - a) Fatima
 - b) Loreto
 - c) Lourdes
 - d) Medjugorje

2. Świątynia przedstawiona na zdjęciu jest charakterystyczna dla:
 - a) prawosławia
 - b) protestantyzmu
 - c) judaizmu
 - d) islamu

3. Przedstawiony wykres kołowy prezentuje strukturę wyznaniową:
 - a) Turcji
 - b) Chorwacji
 - c) Słowacji
 - d) Grecji

4. Wysłuchany utwór muzyczny jest hymnem państwowym:
 - a) Chorwacji
 - b) Serbii
 - c) Turcji
 - d) Słowacji

5. „Nazar Bonjuk”, czyli ozdoba mająca odbijać zły urok najczęściej jest przywożona z:
 - a) Turcji
 - b) Grecji
 - c) Chorwacji
 - d) Albanii

6. W wysłuchanym utworze muzycznym jedna z osób pochodzi z Półwyspu Bałkańskiego. Jest to wokalista i kompozytor folkowy:
 - a) Goran Bregović
 - b) Balkan Sevdah
 - c) Dimitri Mitropoulos
 - d) Don Vasyl

II. Na podstawie poniższego tekstu określcie, czy poniższe zdania są prawdziwe (P), czy fałszywe (F).

(0 – 8)

About Sarajevo climate

The area of Sarajevo is under influence of mid European continental climate from the North, and the Mediterranean from the South. Assortment of these elements, as well as relief diversity, gives the area distinctions of mild continental climate.

The average year-round temperature has quite balanced increase from January to July and it has its distinct drop towards December. The coldest month of the year is January when the average temperature is -1.3°C and it is the only month with its negative monthly value. The coldest January was in 1905 with its average value of -7.8°C , and the warmest one was in 1936 of its 5.9°C .

The warmest month of the year is July, when the average temperature is 19.1°C , although August's average temperature is 18.8°C and could often be warmer. The average year-round temperature in Sarajevo is 9.5°C . Year-round amplitude is 20.4°C , and it represents temperature interval that includes values of average air temperatures throughout the year. Rather high varies of temperature show that Sarajevo has characteristics of continental climate. It has hot summers and cold winters. However, autumn is often warmer than summer for the reason of thermal influence from the Adriatic Sea.

Referring to cloudiness, that is in reverse relation to the temperature of air and the time of sunshine periods, Sarajevo belongs to partly cloudy places with its average year-round value of 59%. December is the cloudiest 75%, and August is the clearest month of the year. On the contrary, August is the sunniest month of 270 sunny hours, while December has the average of 41 sunny hours. According to year-round average, of its 1830 hours, Sarajevo is classified to medium sunny cities.

Airstreams in Sarajevo are conditioned by complex relief that causes its huge modifications to direction and speed. Dominant wind stream comes from southeast and western quadrant.

Satisfactory climatic conditions, and closeness of attractive surroundings of Sarajevo suitable for winter sports, led Bosnia and Herzegovina to candidate for the organizer of the XIV Winter Olympic Games in 1984. As the most suitable period for the Olympics, our service determined the period from 8th 20th February 1984. Exceptional organization and favorable climatic conditions during the competition classified the XIV Winter Olympic Games as the most successful Olympics ever. Our country has been rewarded and praised by the

International Olympic Committee and all participants of the Games.

Źródło: <http://www.sarajevo.ba/en/>

1. Najbardziej zachmurzonym miesiącem w Sarajewie jest listopad (75% zachmurzenia)
2. Sarajewo jest stolicą Czarnogóry
3. Średnia temperatura powietrza w lipcu w Sarajewie wynosi 18,8°C
4. Morze Adriatyckie wywiera znaczny wpływ na mikroklimat Sarajewa
5. W Sarajewie zdarza się, że jesień bywa cieplejsza od lata
6. W Sarajewie przeważają wiatry południowo – wschodnie i zachodnie
7. W 1984 roku w Sarajewie odbyły się XIV Letnie Igrzyska Olimpijskie
8. Igrzyska Olimpijskie w Sarajewie zostały wyróżnione przez Międzynarodowy Komitet Olimpijski

III. Korzystając z przedmiotów leżących na stoliku nr 1 wypiszcie 7 rzeczy, które mogą okazać się niezbędne podczas wspinaczki wysokogórskiej. Każdemu z przedmiotów przyporządkujcie numerację ze stolika 1.

1.
2.
3.
4.
5.
6.
7.

(0 – 7)

IV. W jaskini było bardzo ciemno, a skały śliskie. Jednemu z Was osuwa się noga i uderza ręką w skałę. Wychodzicie z jaskini i okazuje się, że ręka w okolicach nadgarstka jest spuchnięta i bardzo boli. Mając do dyspozycji przedmioty ze stolika nr 2 zademonstrujcie wykonanie opatrunku ręki.

(0 – 3)

V. Podczas wyjazdu trzeba płać za różne usługi. Przyporządkujcie monety lub banknoty do kraju, w którym są wykorzystywane. Nazwijcie wybrane monety lub banknoty. Skorzystajcie z przedmiotów ze stolika nr 3.

Nazwa kraju	Nazwa waluty	Numer wskazanej monety lub banknotu
Węgry		
Słowacja		
Czechy		

(0 – 3)

VI. Pod koniec dnia planujecie spożycie posiłku, ale potrzebne są przyprawy. Za pomocą zmysłów rozpoznajcie przyprawy znajdujące się na stoliku nr 4. Uzupełnijcie tabelę. Wykorzystajcie informacje już zawarte w tabeli.

Potrawa	Nazwa przyprawy	Numer miseczki	Kraj
Leczo			
	Sumak syryjski		
Mussaka			
	Majeranek		

(0 – 6)

VII. Rozwiążcie zadania

Zadanie 1

Przyporządkujcie państwa do opisu.

(0 – 1,5)

- 1 Bułgaria
- 2 Kosowo
- 3 Chorwacja
- 4 Turcja

Nazwa Państwa	Opis
	A
	B
	C

A. Zatrudnienie w sektorze rolnictwa znajduje 1/3 społeczeństwa tego kraju. Istnieje w tym kraju ponad 5 milionów gospodarstw rolnych. Kraj ten jest jednym z największych na świecie producentów bawełny.

B. Kraj ten jest największym na świecie eksporterem olejku różanego. Głównymi uprawami są tu zboża: pszenica, kukurydza; rośliny przemysłowe: słonecznik, tytoń, bawełna; i warzywa: pomidor, ogórek, papryka. Ważnym działem gospodarki jest rybołówstwo.

C. Rolnictwo w tym kraju jest stosunkowo dobrze rozwinięte, znajduje w nim zatrudnienie 10% ludności zawodowo czynnej. Prawie 57% terytorium tego kraju zajmują grunty orne, łąki i pastwiska. Prawie w całym kraju popularna jest uprawa winorośli, przy czym najwyżej cenione są wina dalmackie.

Zadanie 2

W tabeli przedstawiono strukturę zatrudnienia w Albanii, Słowenii, Grecji oraz na Węgrzech. Obok danych wpiszcie właściwą nazwę kraju.

(0 – 2)

Nazwa kraju	Procentowe zatrudnienie w poszczególnych sektorach		
	Rolnictwo	Przemysł	Usługi
	12	41	47
	19,8	21	59,2
	49,5	30,5	20
	7	33	60

Zadanie 3

Określcie, która piramida odpowiada strukturze wieku i płci społeczeństwa Ukrainy. Uzasadnijcie swój wybór.

(0 – 1,5)

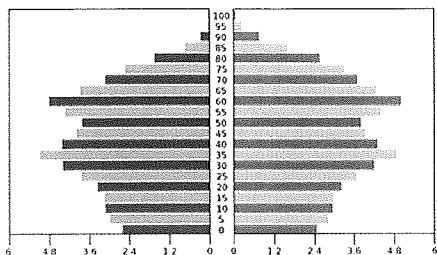
Uzasadnienie

.....

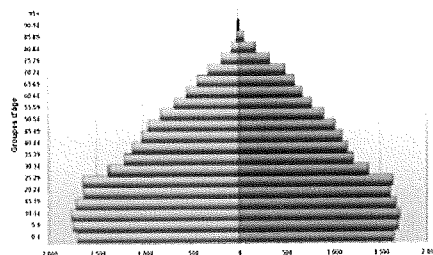
.....

.....

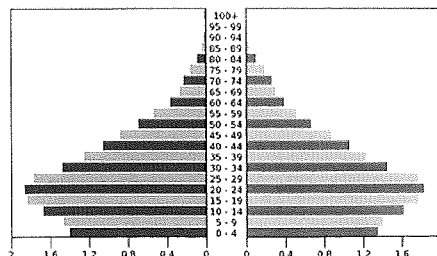
a)



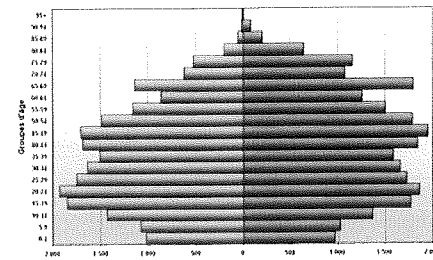
c)



b)



d)



Zadanie 4

Podkreślcie poprawną odpowiedź.

(0 – 2)

Firma produkującą samochody Dacia powstała w:

- a) Bułgarii
- b) Rumunii
- c) Chorwacji

Największe wydobycie ropy naftowej jest w:

- a) Rumunii
- b) Albanii
- c) Bośni i Hercegowinie

O przyjęcie do Unii Europejskiej ubiegają się:

- a) Chorwacja, Bułgaria
- b) Chorwacja, Macedonia
- c) Macedonia, Mołdawia

Podróżując ze Stambułu do Poznania musimy:

- a) Jedną godzinę dodać
- b) Jedną godzinę odjąć
- c) Pozostawić tę samą godzinę